

NOTATKA DO LEKCJI

Rondo to specjalny typ skrzyżowania na którym ruch odbywa się po okręgu. Rondo jest oznaczone znakiem nakazu „ruch okrężny”:



Na rondzie tak oznaczonym, do określenia pierwszeństwa stosujemy zasadę prawej ręki (pojazdy nadjeżdżające z prawej strony mają pierwszeństwo).



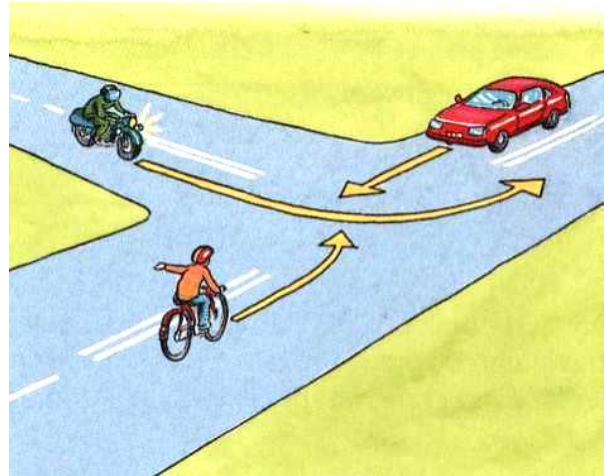
Częściej jednak na rondzie razem ze znakiem nakazu „ruch okrężny” umieszczony jest znak ostrzegawczy „ustąp pierwszeństwa”. Oznacza to że pojazdy znajdujące się na rondzie, mają pierwszeństwo przed pojazdami, które zamierzają na skrzyżowanie wjechać

UWAGA: PYTANIA SĄ JEDNOKROTNEGO WYBORU!

Zaznacz właściwe odpowiedzi


1. W tej sytuacji rowerzysta:

- A.** ma pierwszeństwo przejazdu,
- B.** ustępuje pierwszeństwa obu pojazdom,
- C.** ustępuje pierwszeństwa tylko samochodowi.



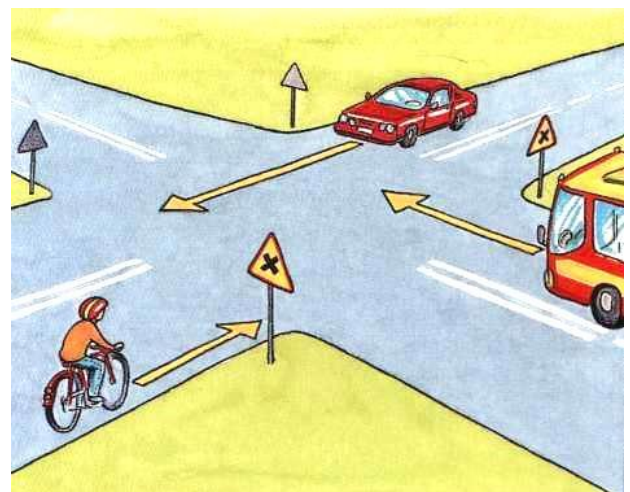
2. Na tym skrzyżowaniu kierujący rowerem

- A.** przejeżdża pierwszy, bo nie ma nikogo po prawej stronie
- B.** jedzie pierwszy, bo jest na drodze głównej
- C.** ustępuje pierwszeństwa tramwajowi



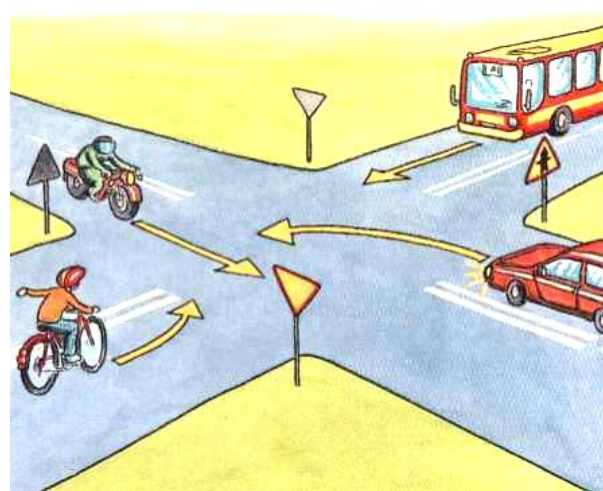
3. Na tym skrzyżowaniu

- A.** Pierwszy jedzie rowerzysta
- B.** Pierwszy jedzie autobus
- C.** Pierwszy jedzie samochód osobowy



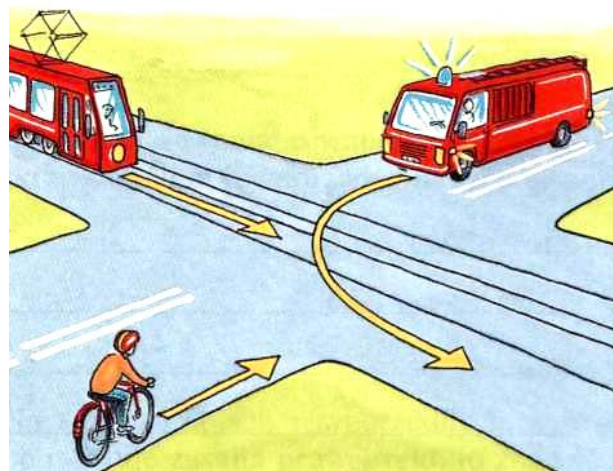
4. Na tym skrzyżowaniu kolejność przejazdu jest następująca

- A. Autobus, rower, samochód, motocykl
- B. Motocykl, rower, autobus, samochód
- C. Motocykl, samochód, autobus, rower



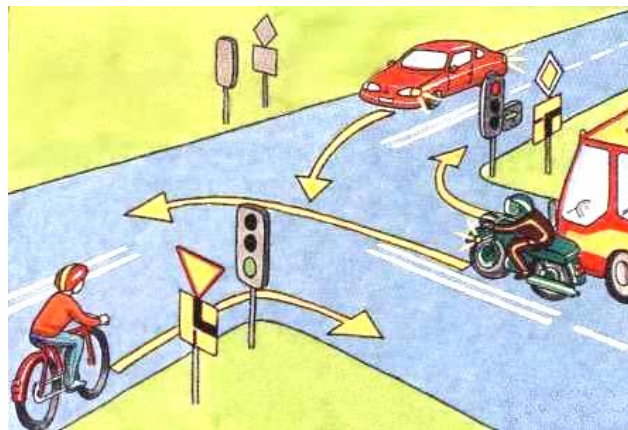
5. W tej sytuacji rowerzysta:

- A. ma pierwszeństwo przejazdu,
- B. ustępuje pierwszeństwa przejazdu tylko pojazdowi uprzywilejowanemu (straż pożarna)
- C. przejeżdża ostatni



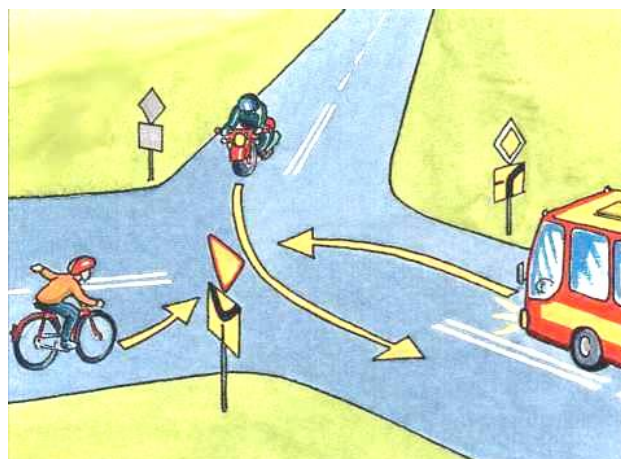
6. W tej sytuacji rowerzysta:

- A. jedzie pierwszy,
- B. ustępuje pierwszeństwa tylko pojazdowi jadącemu z naprzeciwka
- C. jedzie ostatni.



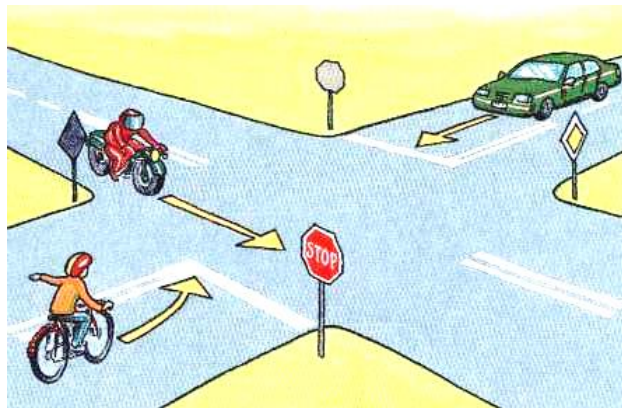
7. Na tym skrzyżowaniu:

- A. rowerzysta pojedzie pierwszy,
- B. rowerzysta jedzie ostatni
- C. rowerzysta ustępuje pierwszeństwa tylko autokarowi.




8. Na tym skrzyżowaniu rowerzysta :

- A. przejeżdża pierwszy,
- B. ma pierwszeństwo przed samochodem
- C. ustępuje pierwszeństwa motocykliście



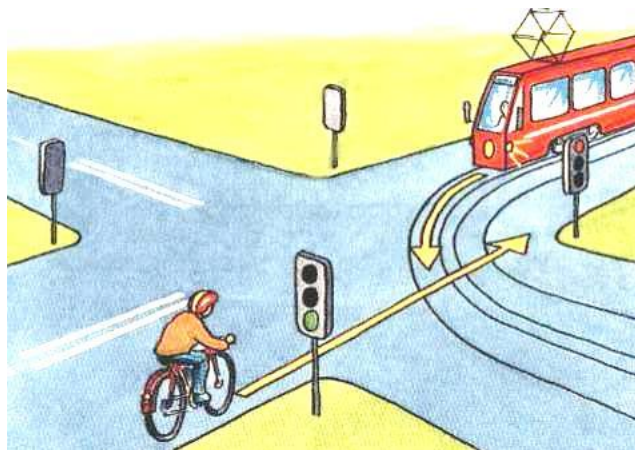
9. W tej sytuacji rowerzysta:

- A. Ustępuje pierwszeństwa tramwajowi,
- B. Przejeżdża pierwszy
- C. Przejeżdża ostatni



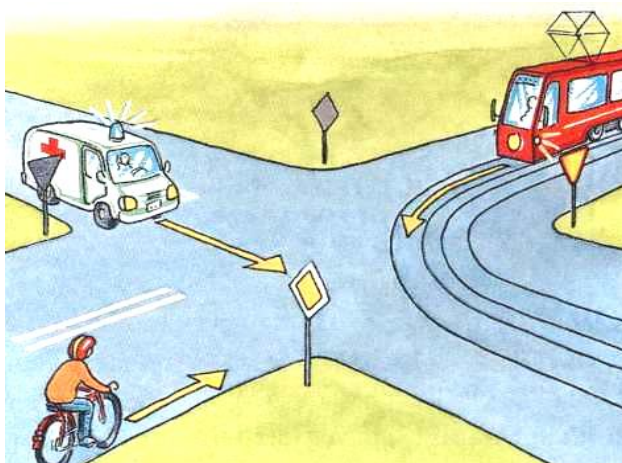
10. W tej sytuacji rowerzysta:

- A. jedzie pierwszy
- B. czeka aż przejedzie tramwaj
- C. wolno mu wjechać kiedy chce



11. W tej sytuacji rowerzysta:

- A. Jedzie pierwszy, bo jest na drodze głównej
- B. Ustępuje pierwszeństwa tylko pojazdowi uprzywilejowanemu (karetka)
- C. Przejeżdża ostatni przez skrzyżowanie



12. Opisz krótko, jak powinien zachować się rowerzysta w tej sytuacji:

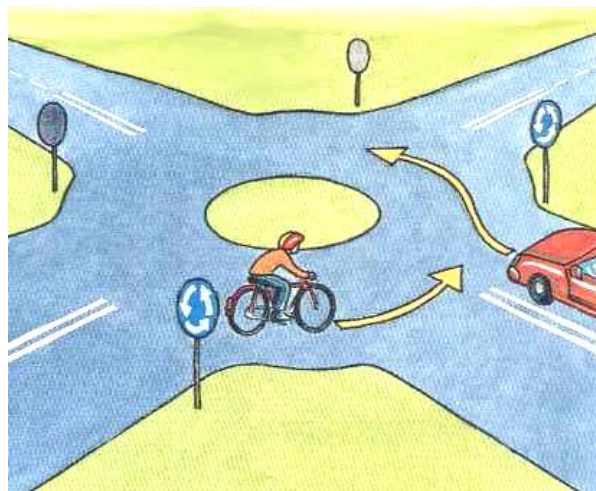
.....

.....

.....

.....

.....



13. Opisz krótko, jak powinien zachować się rowerzysta w tej sytuacji

.....

.....

.....

.....

.....

