

## 4 Kryzys i odbudowa państwa polskiego



### Na dobry początek

- 1 Podkreśl właściwe dokończenie zdania.

Następcą Bolesława Chrobrego był

- ☐ A Bezprym.
- ☐ B Bolesław Śmiały.
- ☐ C Kazimierz Sprawiedliwy.
- ☐ D Mieszko II.

- 2 Oceń, czy poniższe zdania są prawdziwe. Zaznacz literę „P” przy zdaniach prawdziwych, a „F” – przy fałszywych.

Jedną z przyczyn kryzysu państwa Piastów w XI wieku był wspólny najazd Niemców i Rusinów na ziemie polskie.	P	F
W wyniku wyprawy zbrojnej Czechów w 1038 roku Polska zdobyła Śląsk.	P	F
Kryzys państwa polskiego został pogłębiony przez Bezpryma, który przejął władzę i zmusił Mieszka II do ucieczki.	P	F
Król Mieszko II dążył do przywrócenia pogańskiej wiary na ziemiach polskich.	P	F

- 3 Połącz portret Kazimierza Odnowiciela ze zdaniem opisującym tego władcę.



- Odesłał polskie insygnia koronacyjne cesarzowi Niemiec.
- Stłumił bunt ludności przeciw chrześcijaństwu.
- Zawarł sojusz z Czechami.
- Przyłączył do Polski Mazowsze i Pomorze Gdańskie.
- Odzyskał dla Polski utracony wcześniej Śląsk.
- Był synem Mieszka II.
- Przeniósł główną siedzibę władców Polski do Krakowa.

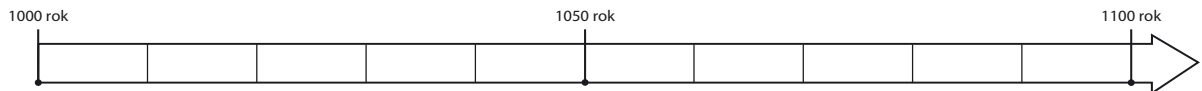
- 4 Uporządkuj podane wydarzenia w kolejności chronologicznej. W tym celu wpisz w wyznaczone miejsca cyfry od 1 do 5.

\_\_\_\_\_ koronacja Mieszka II  
 \_\_\_\_\_ najazd Niemców i Rusinów na Polskę  
 \_\_\_\_\_ przejęcie władzy w Polsce przez Bezpryma  
 \_\_\_\_\_ powrót księcia Kazimierza do Polski  
 \_\_\_\_\_ czeski najazd na Wielkopolskę

- 5 Uzupełnij tekst, wpisując w wolne miejsca właściwe imiona.

Książę \_\_\_\_\_ Śmiały dążył do wzmocnienia pozycji Polski. Poparł papieża \_\_\_\_\_ w sporze z cesarzem \_\_\_\_\_ o inwestyturę. W wyniku buntu możnych wspieranych przez biskupa \_\_\_\_\_ władca musiał uchodzić z kraju.

- 6 Przyjrzyj się zamieszczonej osi czasu. Następnie wykonaj polecenia.



### Praca z osią czasu

- a) Zaznacz na osi czasu datę koronacji Bolesława Śmiałego.  
 b) Zapisz nad osią czasu właściwą nazwę epoki historycznej.

- ★ 7 Oceń, który z potomków Bolesława Chrobrego: Mieszko II, Kazimierz Odnowiciel czy Bolesław Śmiały, ma Twoim zdaniem największe zasługi w pokonaniu kryzysu państwa polskiego w XI wieku. Uzasadnij swoją odpowiedź.

---

---

---

---

---

## 5 Rządy Bolesława Krzywoustego



Rozwiąż  
dodatkowe  
zadanie  
docwiczenia.pl  
Kod: H5NA8U



### Na dobry początek

1 Podkreśl właściwe dokończenie zdania.

Władysław Herman był

- ☐ A bratem Bolesława Śmiałego.      ☐ C synem Mieszka II.  
☐ B synem Bolesława Śmiałego.      ☐ D bratem Bolesława Krzywoustego.

2 Przyjrzyj się zamieszczonej mapie ukazującej ziemie polskie w XII wieku. Następnie wykonaj polecenia.



### Praca z mapą

- a) Pokoloruj na czerwono tereny zdobyte przez Bolesława Krzywoustego.  
b) Podpisz na mapie dzielnice wchodzące w skład państwa Piastów.

*Małopolska, Mazowsze, Pomorze, Śląsk, Wielkopolska*

- 3** Zapoznaj się z fragmentem *Kroniki polskiej* Galla Anonima z XII wieku. Następnie odpowiedz na pytania.



### Tekst źródłowy

#### Żądania Henryka V wobec Bolesława

Cesarz [Henryk V], [...] przygotowując się do wkroczenia do Polski z potężnym wojskiem, przesłał Bolesławowi wprzód poselstwo w te słowa: „Niegodnym jest cesarza i przeciwnym prawom rzymskim wkraczać zbrojnie do kraju wroga, a zwłaszcza swego wasala, zanim się z nim nie porozumie co do pokoju, jeśli chce być posłusznym, lub co do wojny [...]. Dlatego powinienes albo przyjąć z powrotem brata swego, oddając mu połowę królestwa, a mnie płacić rocznie 300 grzywien trybutu, lub tyluż rycerzy dostarczyć na wyprawę, albo ze mną, jeśli czujesz się na siłach, podzielić mieczem królestwo polskie”. Na to książę północny Bolesław odpowiedział: „[...] mielibyśmy się za niewiasty [kobiety], a nie za mężów, gdybyśmy wolności swej nie bronili”.

### Praca z tekstem źródłowym

- a)** Do czego wzywa Bolesława cesarz Henryk V?

---



---

- b)** Na jakie zasady powołuje się cesarz w liście do księcia Bolesława?

---



---

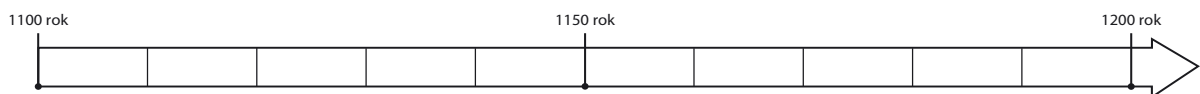
- c)** Jakiej odpowiedzi udzielił książę Bolesław cesarzowi?

---



---

- 4** Przyjrzyj się zamieszczonej osi czasu. Następnie wykonaj polecenia.



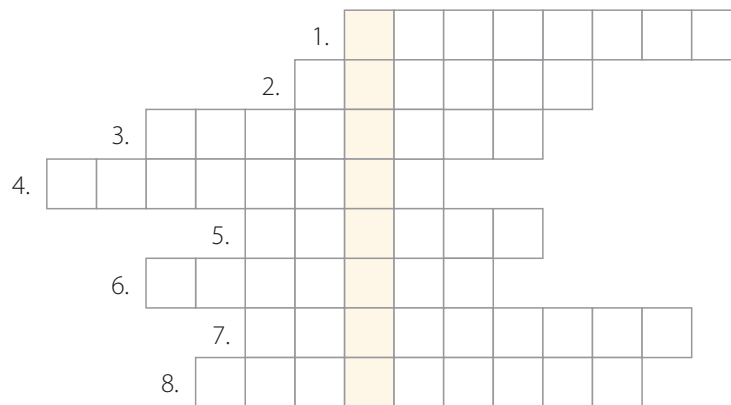
### Praca z osią czasu

- a)** Zaznacz na osi czasu datę ogłoszenia testamentu Bolesława Krzywoustego.

- b)** Uzupełnij zdanie.

Podział Polski na dzielnice został przeprowadzony w \_\_\_\_\_ połowie \_\_\_\_\_ wieku.

**5** Rozwiąż krzyżówkę. Następnie wyjaśnij znaczenie hasła głównego.



1. Palatyn Władysława Hermana.
2. Imię władcy Niemiec, który najechał Polskę w 1109 roku.
3. Imię przyrodniego brata Bolesława Krzywoustego.
4. Jeden z grodów na Pomorzu Zachodnim podbitych przez Bolesława Krzywoustego.
5. Gród oblegany przez Niemców w 1109 roku.
6. Obszar podbity przez Bolesława Krzywoustego.
7. Imię ojca Bolesława Krzywoustego.
8. Dokument wyrażający ostatnią wolę zmarłego.

HASŁO: \_\_\_\_\_

\_\_\_\_\_

**6** Wymień uprawnienia, które według testamentu Bolesława Krzywoustego przysługiwały seniorowi.

- \_\_\_\_\_
- \_\_\_\_\_
- \_\_\_\_\_

★ **7** Określ, czym jest dokument znany jako *Bulla gnieźnieńska*. Wyjaśnij, dlaczego ma ona wielkie znaczenie dla języka polskiego.

\_\_\_\_\_

\_\_\_\_\_

\_\_\_\_\_

\_\_\_\_\_



**Dobra rada**

Skorzystaj z dostępnych źródeł, na przykład z internetu.